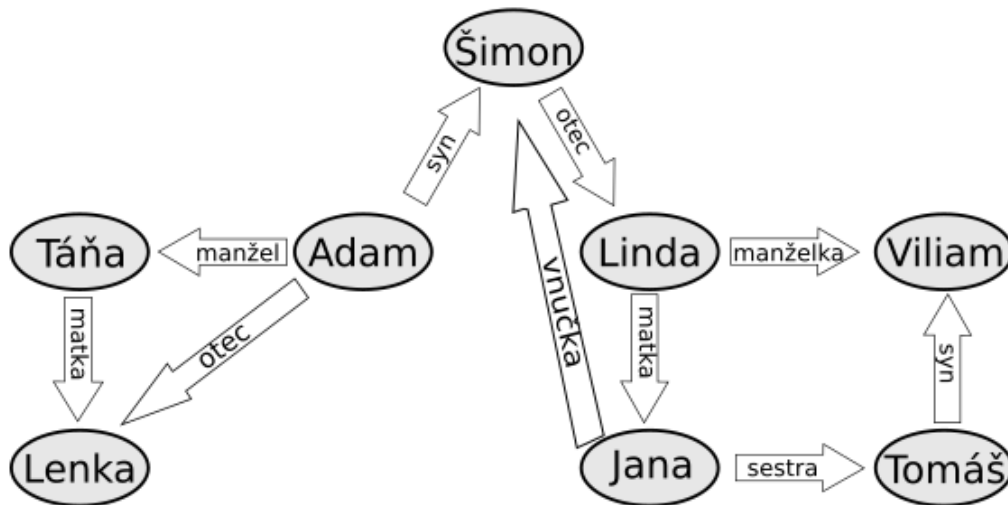


## Rodinné vzťahy

1. Na obrázku vidíš zakreslené rodinné vzťahy v jednej rodine. Napríklad z obrázku vieme zistiť, že *Adam* je *Šimonov* syn, alebo že *Jana* je *Tomášova* sestra.



### Doplň vzťahy:

- Šimon je Lindin .....
- Adam je Šimonov .....
- Táňa je Lenkina .....
- Tomáš je synom .....
- Adam je Tánin .....
- Jana je vnučkou .....

### 2. Zisti z obrázku aj tieto vzťahy:

- Lindina dcéra sa volá .....
- Adamova dcéra sa volá .....
- Linda je Adamova .....
- Táňa je Adamova .....
- Šimon je Janin .....
- Viliam je Tomášov .....

### 3. Čo určuje smer šípky?

Napr. čo vieš povedať, ak šípka *syn* ide od Adama k Šimonovi (ako na obrázku)?

Adam je ..... Adam má .....

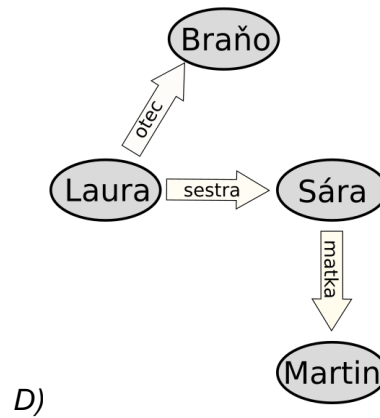
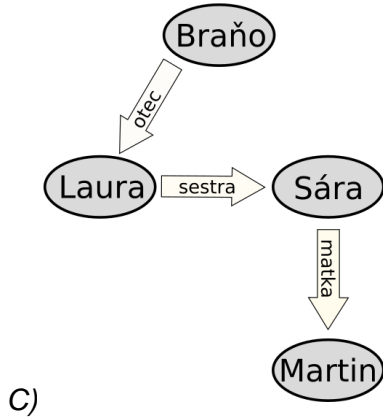
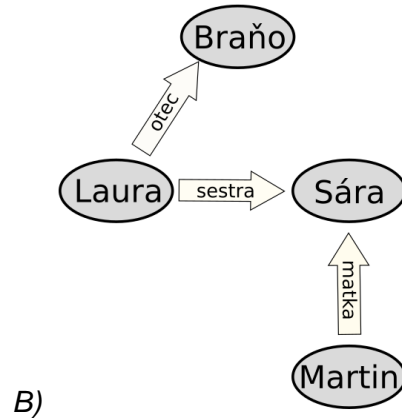
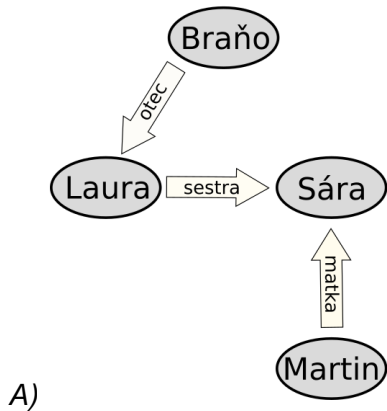
Šimon je ..... Šimon má .....

### 4. Dokresli do horného obrázku ovály s menom a šípky, ktoré znázorňujú tieto vzťahy:

- Hana* je *Šimonova* manželka.
- Lenka* má brata *Alberta*.
- Vieš určiť ešte nejaký vzťah, ktorý nie je nakreslený? Dokresli ho do obrázku.

5. V ktorom z týchto obrázkov je správne zakreslená táto rodina?

- Sára má sestru Lauru.
- Sára je matka Martina.
- Braňo je Laurin otec.



6. Nakresli obrázok ako v predchádzajúcich úlohách pre rodinu, o ktorej vieš:

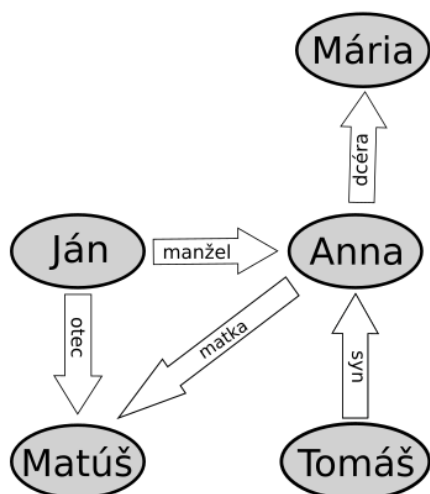
- Tomáš má s manželkou Simonou syna Alberta.
- Albert je otcom Martiny a Krištofa.
- Krištofova mama sa volá Patrícia.

Meno:

Trieda:

Dátum:

7. Na obrázku vidíš vzťahy v ďalšej rodine.



Doplň:

- Anna je Máriina .....
- Mária je Tomášova .....
- Annin manžel sa volá .....
- Matúšova stará mama sa volá .....
- Matúš je Jánov .....
- Tomášova matka sa volá .....

8. Prečítaj si opis rodiny.

- Juraj je manžel Lujzy a otec Dana.
- Lujza je matkou Dana a dcérou Emílie.
- Samo je Lujzin syn.

Doplň:

- a) Dano je Jurajov .....
- b) Samova matka sa volá .....
- c) Lujza je Emíliina .....
- d) Emília je Samova .....
- e) Lujzin manžel sa volá .....
- f) Danova stará mama sa volá .....

9. Ktorá úloha sa ti riešila ľahšie, 7. alebo 8.? Napiš číslo: .....

Prečo bola ľahšia?

Skús napísať, v čom je pre teba **lepší obrázok** ako text.

Skús napísať, v čom je pre teba **lepší text** ako obrázok.

**10. Skús zakresliť obrázok ako v predchádzajúcich úlohách aj pre vlastnú rodinu.** (Ak nechceš kresliť vlastnú rodinu, môžeš si nejakú vymyslieť.) Môžeš nakresliť starých rodičov, sesternice, bratrancov...

- **Nakresli** aspoň **5 ľudí** a aspoň **7 šípok** so vzťahmi.
- K obrázku napíš aj aspoň **2 vzťahy slovne** (napr. "*Moja mama sa volá Ema.*").

**11. \* Vieš vymyslieť iný spôsob, ako bol v tomto pracovnom liste, ktorým by sa dali zaznamenávať informácie o rodinných vzťahoch? Popíš alebo nakresli ho a vysvetli, ako by fungoval.**