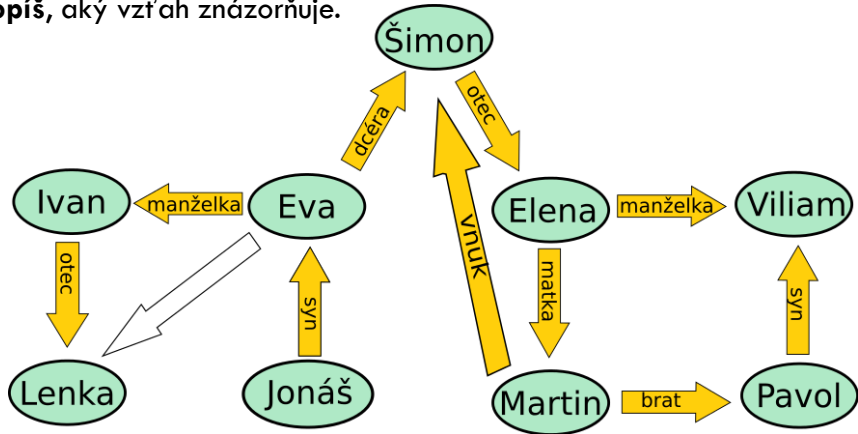


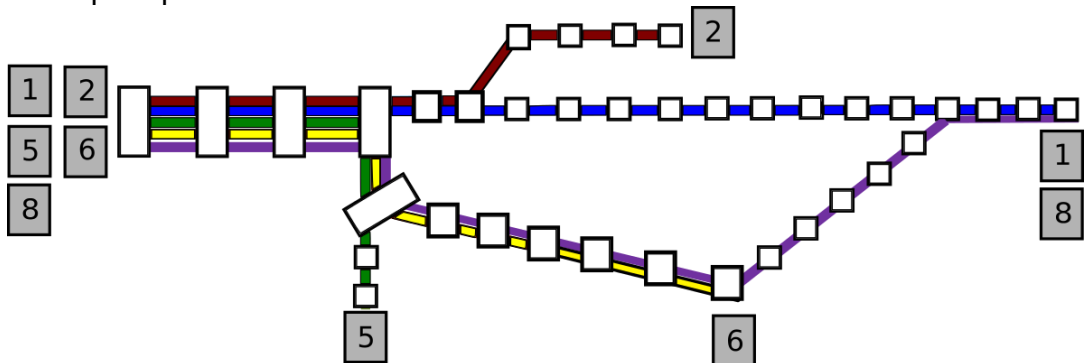
Úloha 1 – Rodinka Šikovných

Na obrázku sú zakreslení členovia rodinky Šikovných a niektoré vzťahy medzi nimi. Do prázdnej šípky **dopíš**, aký vzťah znázorňuje.



Úloha 2 – Električky v Medveďove

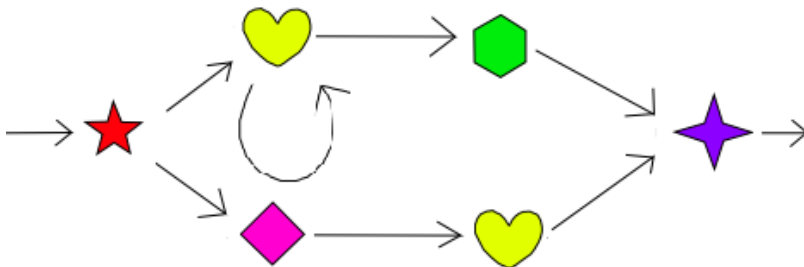
Na obrázku je mapa električiek v Medveďove.



Peťko nastúpil do niektorej električky na spoločnej zástavke všetkých električiek (na mape vľavo). Prešiel viac ako 9 zastávok a električka, ktorou sa viedol, dvakrát odbočila. **Ktorými** električkami **mohol** ísť Peťko?

Úloha 3 – Náramky

Tamara robí náhrdelníky podľa pravidiel na obrázku.



Nakresli aspoň dva rozdielne náhrdelníky, ktoré mohla podľa pravidiel vytvoriť.