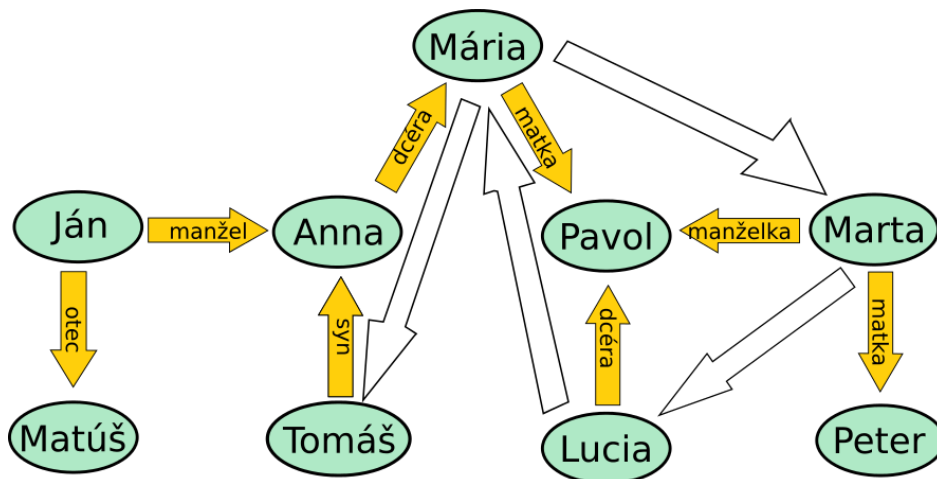


## Úloha 1 – Rodinka Úžasných

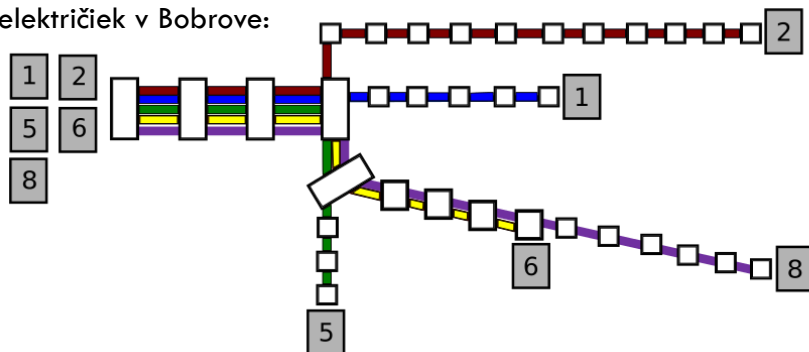
Na obrázku sú zakreslení členovia rodinky Úžasných a niektoré vzťahy medzi nimi. Vyfarbi šípku, ktorá znázorňuje vzťah **stará mama**.



Vysvetli, ako si postupoval/a pri riešení tejto úlohy. (Predstav si, že sa snažíš vysvetliť kamarátovi, ako má túto úlohu riešiť.)

## Úloha 2 – Električky

Toto je mapa električiek v Bobrove:



Adam nastúpil do niektorej električky na spoločnej zástavke všetkých električiek (na mape vľavo). Na tretej zastávke električka odbočila a na nasledujúcej zastávke opäť odbočila. Potom mala na štvrtej zastávke svoju konečnú.

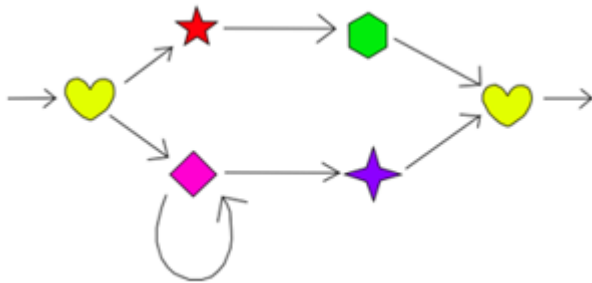
Aké číslo mala električka, v ktorej sa viezol Adam?

- A. 2
- B. 5
- C. 6
- D. 8

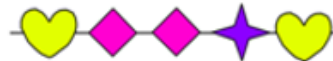
Vysvetli, ako si postupoval/a pri riešení tejto úlohy. (Predstav si, že sa snažíš vysvetliť kamarátovi, ako má túto úlohu riešiť.)

### Úloha 3 – Deň matiek

Sára chce pre svoju mamu pripraviť náhrdelník. Nasledujúci obrázok znázorňuje pravidlá, v akom poradí môže navliekať koráliky.



Sára vyrobila podľa pravidiel takýto náhrdelník:



Aký náhrdelník mohla ešte vyrobiť podľa pravidiel?

- A)
- B)
- C)
- D)

Vysvetli, ako si postupoval/a pri riešení tejto úlohy. (Predstav si, že sa snažíš vysvetliť kamarátovi, ako má túto úlohu riešiť.)